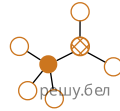
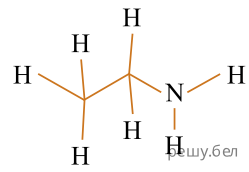
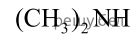


Укажите количество формул и моделей, соответствующих метиламину:



a)

б)

в)

г)

1) 1

2) 2

3) 3

4) 4